

# UKAS VÆRKART/VIIKON SÄÄKARTTA

## 1. - 4. KLASSE








| Viikko<br>.....   | Maanantai | Tiistai | Keskiviikko | Tuorestai | Perjantai |
|---|-----------|---------|-------------|-----------|-----------|
|  <p>2007</p> |           |         |             |           |           |
| Tegnaa<br>säsymboolin   |           |         |             |           |           |
| + C<br>- C  |           |         |             |           |           |
| Tuulen suunta   |           |         |             |           |           |
| Kirjoita säästä   |           |         |             |           |           |

# UKAS VÆRKART/VIIKON SÄÄKARTTA

Fra 4. KLASSE

| Taattuma | + C<br>- C | Kirjoita säästä. Minkälainen sää oon? |
|----------|------------|---------------------------------------|
|          |            |                                       |
|          |            |                                       |
|          |            |                                       |
|          |            |                                       |
|          |            |                                       |

# Sääkartta

|                                 |   |   |   |   |   |   |   |
|---------------------------------|---|---|---|---|---|---|---|
| 15                              |   |   |   |   |   |   |   |
| 14                              |   |   |   |   |   |   |   |
| 13                              |   |   |   |   |   |   |   |
| 12                              |   |   |   |   |   |   |   |
| 11                              |   |   |   |   |   |   |   |
|                                 |   |   |   |   |   |   |   |
| 10                              |   |   |   |   |   |   |   |
| 9                               |   |   |   |   |   |   |   |
| 8                               |   |   |   |   |   |   |   |
| 7                               |   |   |   |   |   |   |   |
| 6                               |   |   |   |   |   |   |   |
|                                 |   |   |   |   |   |   |   |
| 5                               |   |   |   |   |   |   |   |
| 4                               |   |   |   |   |   |   |   |
| 3                               |   |   |   |   |   |   |   |
| 2                               |   |   |   |   |   |   |   |
| 1                               |   |   |   |   |   |   |   |
| PÄIVI<br>=<br>3<br>kouluviikkoo |  |  |  |  |  |  |  |

Gjør slik:








a. *Hvordan er været i dag?* Bruk setninger fra *Spør og svar*-lista.

Eks:

|              | Spørsmål / Kysymys          | Svar / Vastaus                     |
|--------------|-----------------------------|------------------------------------|
| Lett         | Paistaako aurinko täpäpä?   | Kyllä. / Paistaa. / Ei (paista).   |
| Vanskeligere | Minkälainen sää täpäpä oon? | Aurinko paistaa ja oon kova tuuli. |

b. Velg én farge til hvert bilde; gult for solskinn, grått for regn osv.

Sääkartta

|                 |   |   |   |   |  |   |   |
|-----------------|---|---|---|---|--|---|---|
| 15              |   |   |   |   |  |   |   |
| 14              |   |   |   |   |  |   |   |
| 13              |   |   |   |   |  |   |   |
| 12              |   |   |   |   |  |   |   |
| 11              |   |   |   |   |  |   |   |
| 10              |   |   |   |   |  |   |   |
| 9               |   |   |   |   |  |   |   |
| 8               |   |   |   |   |  |   |   |
| 7               |   |   |   |   |  |   |   |
| 6               |   |   |   |   |  |   |   |
| 5               |   |   |   |   |  |   |   |
| 4               |   |   |   |   |  |   |   |
| 3               |   |   |   |   |  |   |   |
| 2               |   |   |   |   |  |   |   |
| 1               |   |   |   |   |  |   |   |
| PÄIVII<br>DAGER |  |  |  |  |  |  |  |

1. Hvis det er sol så tegn en gul strek på dag 1 i første rubrikk over bildet.
  2. Hvis det ikke er sol settes ingen farge på dag 1 og man ser at den dagen skinte ikke sola.
  3. Hvis det regner fylles dag 1 over regnbildet med fargen som viser regn.
  4. Hvis det også blåser, så fylles også rubrikken for vind.
- Osv.



